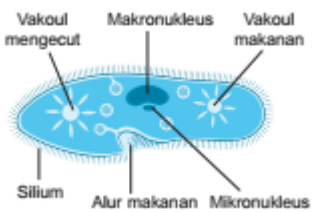
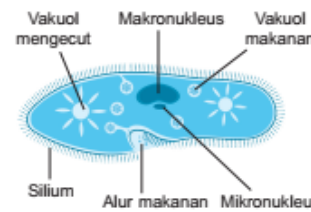
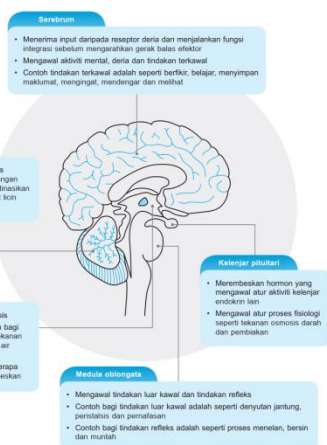
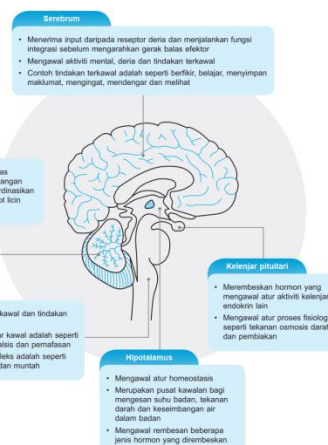


## ERRATA

**Title:** Focus Biologi SPM

**Book code:** CC038141

**Author:** Jariah Khalib, Sudani Sudin, Rodiah Abd Wahid, Noor Haniyatie, Tan Moi Ho

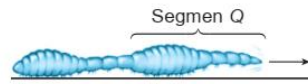
Muka surat	Unit	Kesalahan	Pembetulan
20	Bab 2 Ting. 4	 <p style="text-align: center;">Penandaan dan ejaan vakuol</p>	 <p style="text-align: center;">Penandaan dan ejaan vakuol yang betul</p>
190	Bab 12 Ting. 4	 <p style="text-align: center;">Penandaan medula oblongata</p>	 <p style="text-align: center;">Penandaan medula oblongata yang betul</p>

234

Bab 14  
Ting. 4

3. Rajah 3 menunjukkan pergerakan seekor cacing tanah.

SPM  
2015



Rajah 3

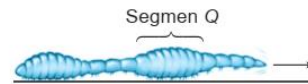
Antara yang berikut, yang manakah benar tentang tindakan otot pada segmen Q?

- A Otot lingkar dan otot membujur mengendur
- B Otot lingkar dan otot membujur mengecut
- C Otot lingkar mengendur manakala otot membujur mengecut
- D Otot lingkar mengecut manakala otot membujur mengendur

Penandaan 'segmen Q' dalam Rajah 3

3. Rajah 3 menunjukkan pergerakan seekor cacing tanah.

SPM  
2015



Rajah 3

Antara yang berikut, yang manakah benar tentang tindakan otot pada segmen Q?

- A Otot lingkar dan otot membujur mengendur
- B Otot lingkar dan otot membujur mengecut
- C Otot lingkar mengendur manakala otot membujur mengecut
- D Otot lingkar mengecut manakala otot membujur mengendur

Penandaan 'segmen Q' dalam Rajah 3 yang betul